

1 grado

Evaluación: Diagnóstica
Clave de Respuestas

Nombre del Alumno:

Grado: Grupo: Fecha:


Nombre de la Escuela:

MATERIA	REACTIVOS	ACIERTOS	CALIFICACIÓN
Matemáticas	18		
Lengua materna Español	18		
Conocimiento del Medio	16		


Firma del padre o tutor: _____

Matemáticas pág. 1/2

1.- Marca con una **X** el recuadro con **menos** animales.



2 al 4.- Dibuja los plátanos que faltan para que cada mono tenga uno.



5 al 7.- Escribe los números que faltan.

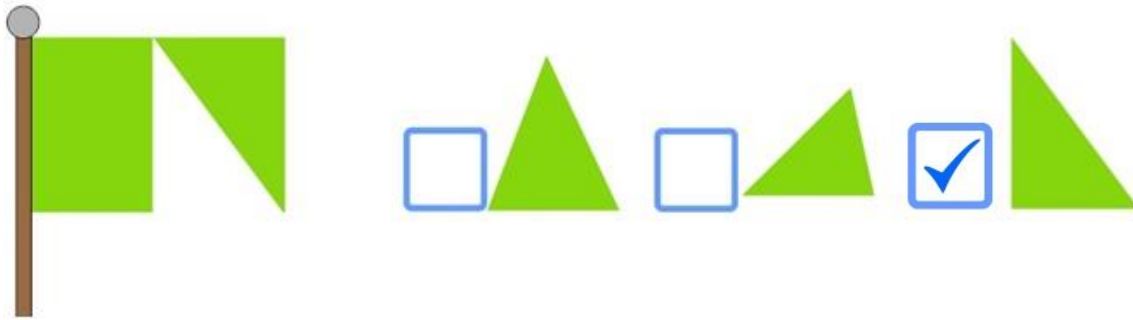


8 al 10.- Cuenta los puntos de los dados y escribe la cantidad.




Matemáticas *pág. 2/2*

11.- Marca con una palomita la figura que le falta a la bandera.



12 y 13.- ¿Cuál de los objetos es más corto y cuál más largo?

Rodea con **azul** el objeto **más corto** y con **rojo** el objeto **más largo**.

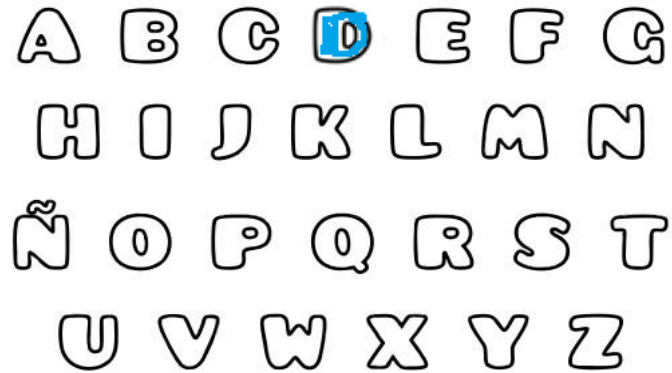


14 al 18.- Colorea cada figura como se indica.



Lengua materna Español *pág. 2/2*

1.- Colorea la letra con la que inicia tu nombre.

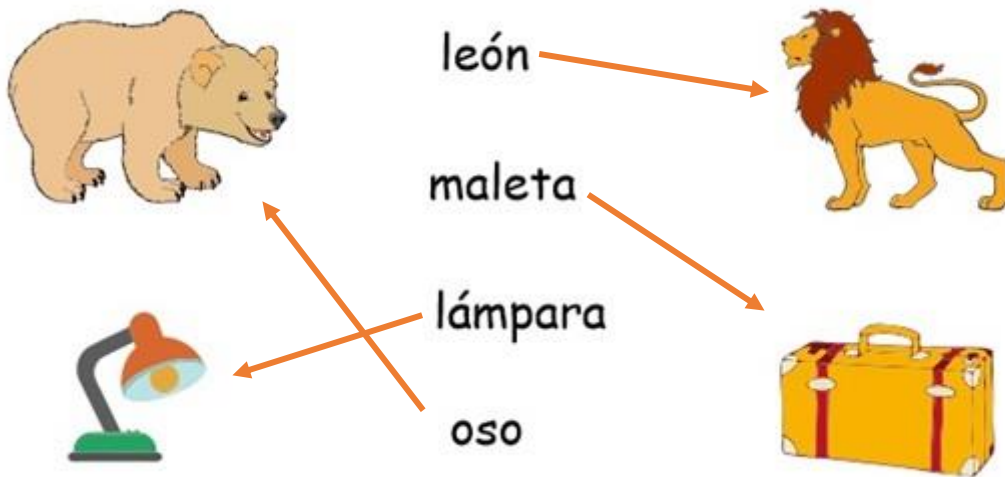


Ejemplo:

2.- Escribe tu nombre:

Daniel

3 al 6.- Une cada imagen con la palabra que le corresponde.



7 y 8.- Encuentra y señala con una los días de la semana.

María Martes José Jueves

Lengua materna Español *pág. 1/2*


9.- Encierra el dibujo que empieza con la letra **A - a**




10.- Encierra el dibujo que empieza con la letra **E - e**



11 y 12.- Encuentra y subraya el nombre de cada dibujo.




Casa
Queso
Ratón



Uvas
Fresas
Plátano

13 al 15.- Escribe el nombre de las imágenes.



Elefante




Uvas



Abeja

16 al 18.- Completa las figuras que faltan.



Conocimiento del medio Pág. 1/2

1 al 3.- Escribe **Triste**, **Alegre**, **Enojado** en el recuadro que corresponde.



Triste

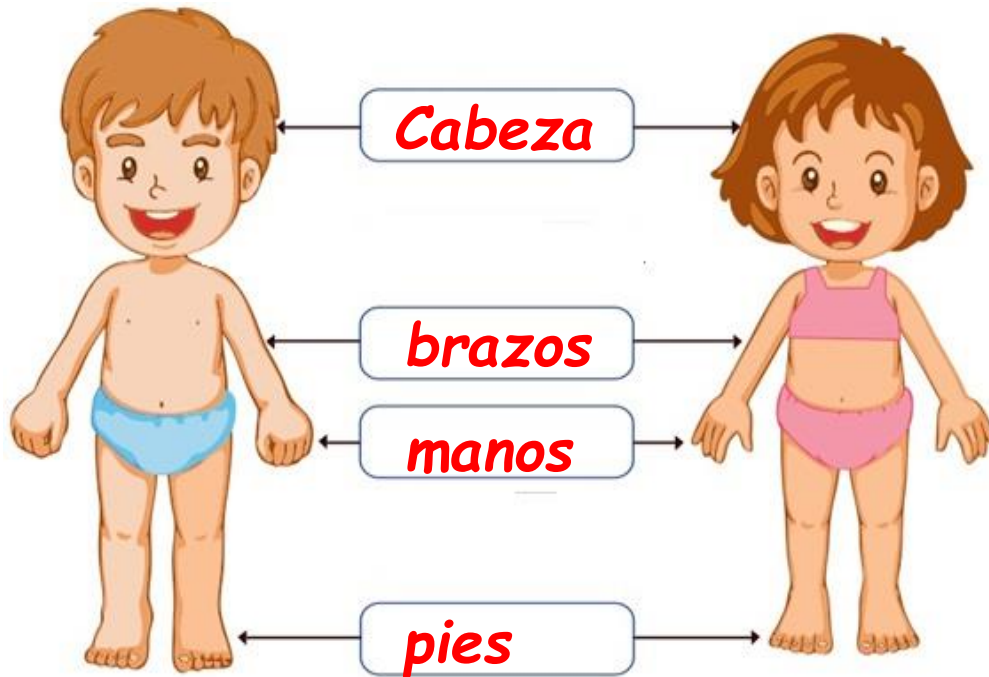


Alegre

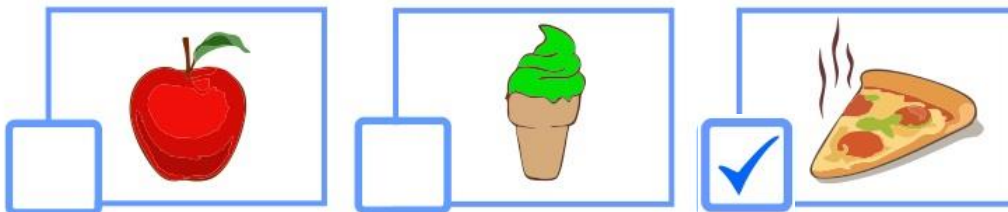


Enojado

4 al 7.- Escribe el nombre de las partes del cuerpo en el lugar que le corresponde. **Cabeza**, **manos**, **brazos** y **pies**.



8.- Marca con una el alimento más **caliente**.

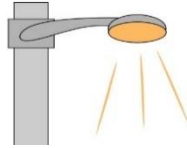


Conocimiento del medio Pág. 2/2

9 y 10.- Marca con una las fuentes de luz artificial.



Lampara



Poste de luz



Sol

11 al 13.- Escribe: **Mañana**, **Tarde**, **Noche**, en el lugar que corresponde.



tarde




mañana




noche

14 y 15.- Encierra de color **rojo** los animales **domésticos**.



16.- Encierra de color **azul** el animal **acuático**.



Clave de respuestas: <https://www.cicloescolar.mx>

CicloEscolar.mx ® 2019-2020

Este examen fue elaborado exclusivamente para www.cicloescolar.mx.



Examen Diagnóstico Primer grado Ciclo escolar 2019-2020 por <https://www.cicloescolar.mx> se distribuye bajo una [Licencia Creative Commons Atribución-NoComercial-SinDerivadas 4.0 Internacional](https://creativecommons.org/licenses/by-nc-nd/4.0/).

Visita: <https://www.cicloescolar.mx>

Este examen fue elaborado exclusivamente para www.cicloescolar.mx.

Si utilizas estos materiales en tu página web deberás atribuir autoría a [cicloescolar.mx](http://www.cicloescolar.mx)

E incluir un código en el post o entrada donde compartes los materiales de [cicloescolar.mx](http://www.cicloescolar.mx)

```
<a href="https://www.cicloescolar.mx " >Exámenes de Primaria por  
CicloEscolar.mx</a>
```